

География 7 класс

Вариант 1

ЧАСТЬ А

Часть А содержит 18 заданий с выбором ответа. К каждому заданию даётся четыре варианта ответа, только один из которых верный. При выполнении заданий этой части в бланке ответов № 1 под номером выполняемого вами задания (А1–А18) поставьте знак «'» в клеточке, номер которой соответствует номеру выбранного вами ответа.

А-1. Какой материк пересекается экватором в северной части?

- 1) Северная Америка 2) Южная Америка
3) Австралия 4) Евразия

А-2. Какой из перечисленных путешественников исследовал внутренние районы Африки?

- 1) Д. Ливингстон 3) А. Веспуччи
2) Дж. Кук 4) А. Макензи

А-3. Какой материк Земли самый сухой?

- 1) Евразия 2) Австралия 3) Африка 4) Южная Америка

А-4. Относительно устойчивые и выровненные участки земной коры, лежащие в основании современных материков, - это:

- 1) материковые отмели 2) платформы 3) сейсмические пояса 4) острова

А-5. Какая из перечисленных территорий расположена в пределах сейсмического пояса?

- 1) остров Сахалин 2) острова Новая Земля
3) полуостров Таймыр 4) полуостров Ямал

А-6. Какая из перечисленных горных систем самая протяженная?

- 1) Кордильеры 2) Урал 3) Альпы 4) Аппалачи

А-7. Какой буквой на карте обозначен вулкан Килиманджаро?



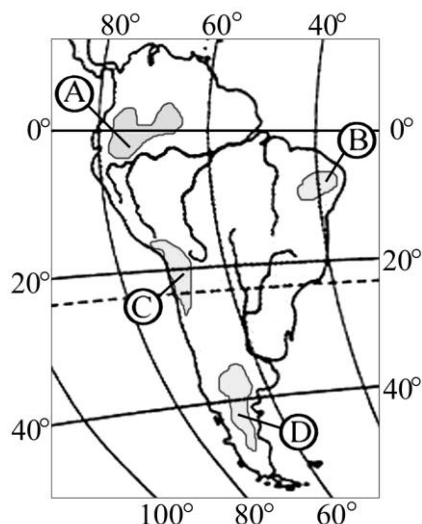
- 1) А 2) Б 3) В 4) Г

А-8. Для какого типа климата умеренного климатического пояса характерны самые низкие зимние температуры?

- 1) морского 2) умеренно- континентального 3) резко- континентального 4) муссонного

А-9. На какой из территорий, обозначенных буквами на карте Южной Америки, среднегодовое количество атмосферных осадков наибольшее?

- 1) А 2) Б 3) В 4) Г



A-10. Какое из перечисленных морских течений действует в Тихом океане?

- 1) Гольфстрим 2) Бразильское 3) Гвинейское 4) Куроисио.

A-11. В умеренном поясе к югу от лесной зоны расположена зона:

- 1) тайги 2) лесостепей и степей 3) лесотундр и тундр 4) высотной поясности

A-12. Соболь - животное, обитающее в природной зоне:

- 1) степей 2) тайги 3) пустынь 4) тундры

A-13. Укажите ошибку в сочетании «материк - животное».

- 1) Африка — гепард 2) Австралия — вомбат
3) Южная Америка — пума 4) Евразия — скунс

A-14. Укажите правильный вариант ответа. В Африке — вади, а в Австралии:

- 1) пуны 2) крики 3) самум 4) коала

A-15. Какие координаты имеет самая восточная точка Африки?

- 1) 16° ю.ш.; 3° в.д. 2) 10° с.ш.; 51° в.д.
3) 51° с.ш.; 11° в.д. 4) 16° с.ш.; 3° з.д.

A-16. По карте плотности населения определите, какая из названных территорий заселена больше?

- 1) Европа; 2) Южная Америка; 3) Австралия; 4) север Африки.

A-17. Родиной какого культурного растения является Африка?

- 1) кофе 2) каучуконосов 3) какао 4) чая

A-18. Одним из основных современных видов хозяйственной деятельности человека в тундре является:

- 1) заготовка леса 2) добыча полезных ископаемых
3) разведение скота 4) выращивание зерна

ЧАСТЬ В

Часть В содержит 4 задания. Задания В-1, В-2 содержат по три правильных ответа. Ответом к заданиям этой части (В-3, В-14) является слово, последовательность букв или цифр. Впишите ответы сначала в текст работы, а затем перенесите их в бланк ответов № 1 справа от номера соответствующего задания, начиная с первой клеточки, без пробелов, запятых и других дополнительных символов. Каждую цифру или букву пишите в отдельной клеточке в соответствии с приведёнными в бланке образцами. Единицы измерения писать не нужно.

В-1. Определите, о какой природной зоне говорится:

«Характерны желтоземные и красноземные почвы. Субтропические вечнозеленые леса и кустарники. Характерные представители животного мира: гепарды, зебры, носороги, слоны».

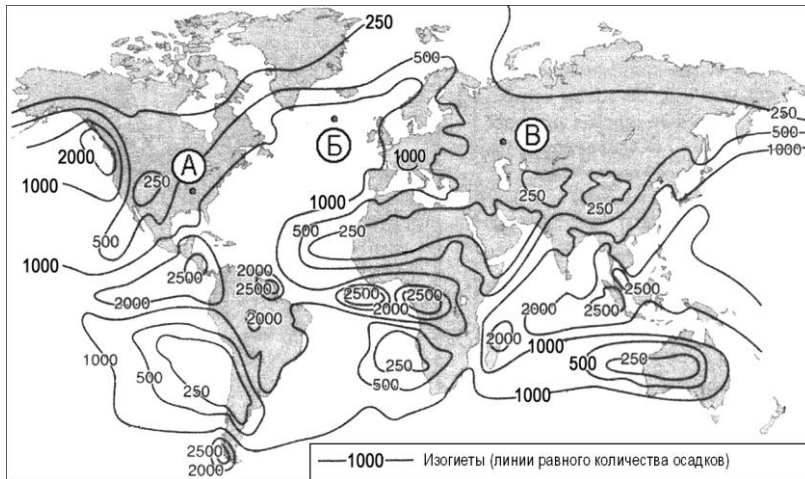
В-2. Установите соответствие между строением земной коры и рельефом.

ГОРЫ ВОЗРАСТ СКЛАДЧАТОСТИ

- 1) Гималаи
- 2) Урал
- 3) Верхоянский хребет

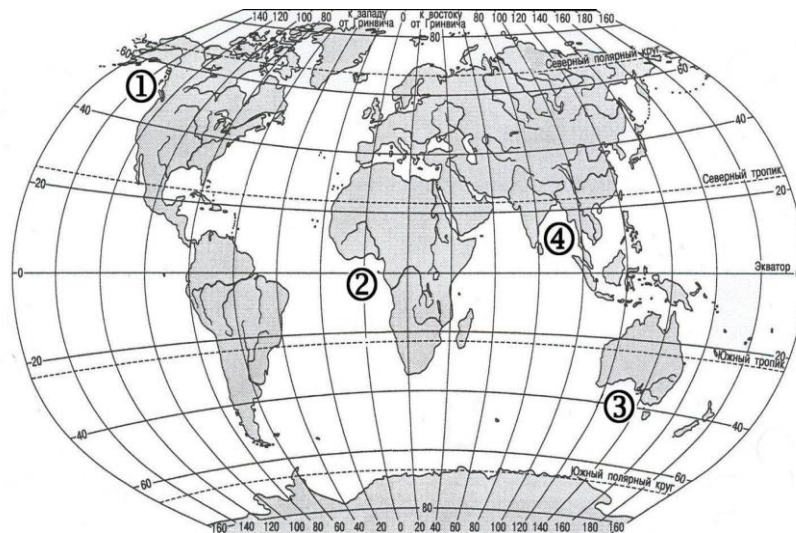
- А. Мезозойский
- Б. Кайнозойский
- В. Герцинский

В-3. С помощью карты сравните среднегодовое количество осадков в точках, обозначенных на карте буквами А, Б, В. Расположите эти точки в порядке увеличения количества осадков, выпадающих в них.



Запишите в таблицу получившуюся последовательность букв.

В-4. Установите соответствие между заливом и его расположением на карте, обозначенным цифрой.



ЗАЛИВ

РАСПОЛОЖЕНИЕ НА КАРТЕ

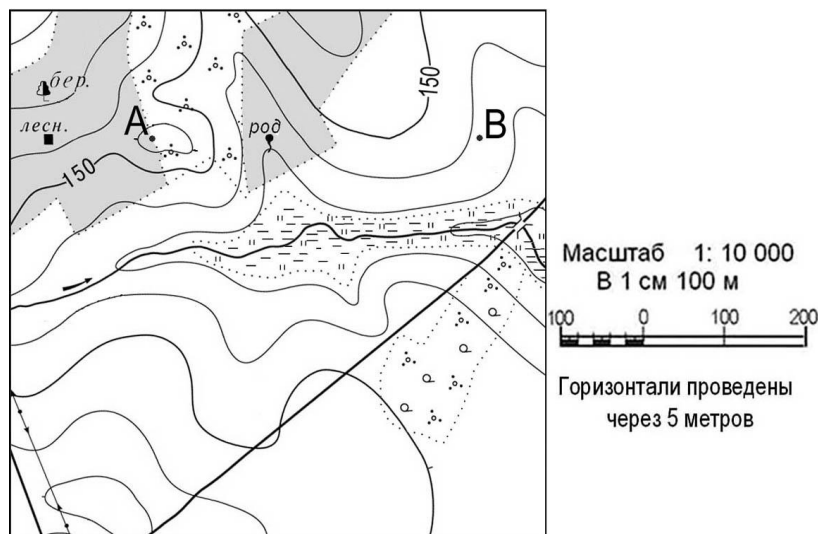
- | | | | |
|---------------|----------------|-----------|--------------------------|
| А. Гвинейский | Б. Бенгальский | В. Аляска | Г. Большой Австралийский |
|---------------|----------------|-----------|--------------------------|

ЧАСТЬ С

Задания С требуют развёрнутого ответа. Запишите сначала номер задания, а затем полный ответ

С-1. Определите по карте расстояние на местности по прямой от родника до дома лесника. Полученный результат округлите до десятков метров. Ответ запишите цифрами.

Ответ: _____ м.



С-2. Определите страну по ее краткому описанию.

Это – одна из крупных по площади стран мира, имеет выход к трем океанам. На её территории находится одна из крайних точек материка, на котором она расположена. По суше граничит лишь с одной страной. Большая часть ее населения расположена вдоль южной границы. Страна богата разнообразными полезными ископаемыми, а также лесными, земельными, водными ресурсами.

Вариант 2

ЧАСТЬ А

Часть А содержит 18 заданий с выбором ответа. К каждому заданию даётся четыре варианта ответа, только один из которых верный. При выполнении заданий этой части в бланке ответов № 1 под номером выполняемого вами задания (А1–А18) поставьте знак «✓» в клеточке, номер которой соответствует номеру выбранного вами ответа.

А-1. Какой материк пересекается всеми меридианами?

- 1) Евразия 2) Африка 3) Северная Америка 4) Антарктида

А-2. Какое из следующих утверждений является верным?

- 1) Н. Пржевальский проводил свои географические исследования в Азии
2) Первым Южного полюса достиг Ф. Нансен
3) Америка получила название от своих коренных жителей – индейцев
4) Первым Северного полюса достиг Р. Амундсен

А-3. Какой материк Земли самый жаркий?

- 1) Африка 2) Австралия 3) Евразия 4) Северная Америка

А-4. Пограничные области между литосферными плитами, в которых происходят извержения вулканов и землетрясения, - это:

- 1) платформы 2) сейсмические пояса 3) горы 4) океанические равнины

А-5. Какая из перечисленных территорий расположена в пределах сейсмического пояса?

- 1) Японские острова 2) Остров Мадагаскар
3) полуостров Индостан 4) остров Гренландия

А-6. Какая из перечисленных горных систем самая высокая?

- 1) Гималаи 2) Анды 3) Атлас 4) Кордильеры

А-7. Какой буквой на карте обозначена гора Аконкагуа?



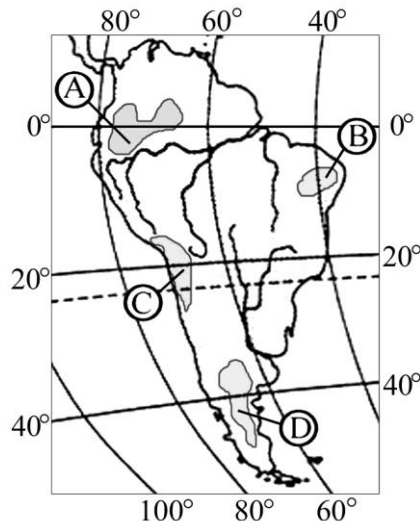
1) А 2) Б 3) В 4) Г

А-8. Признаком морского типа климата является:

- 1) лето сухое и жаркое
- 2) зима влажная и теплая
- 3) большая амплитуда колебания температур
- 4) низкие зимние температуры

А-9. На какой из территорий, обозначенных буквами на карте Южной Америки, среднегодовое количество атмосферных осадков наименьшее?

1) А 2) В 3) С 4) D



А-10. Самое мощное теплое течение в Мировом океане:

- 1) Гольфстрим 2) Бразильское 3) Гвинейское 4) Куроисио

А-11. Где тайга занимает наибольшую площадь?

- 1) в Австралии 2) в Северной Америке 3) в Евразии 4) в Южной Америке

А-12. Для какой из перечисленных природных зон характерно наибольшее количество грызунов?

- 1) тайги 2) тундры и лесотундры 3) степи 4) полупустыни и пустыни

А-13. Укажите ошибочное сочетание «материк — река».

- 1) Африка — Замбези 2) Австралия — Муррей
- 3) Южная Америка — Ориноко 4) Северная Америка — Парана

А-14. Скрэб (заросли колючих кустарников) характерны для материка:

- 1) Австралии 2) Африки 3) Южной Америки 4) Антарктиды

А-15. Какие координаты имеет самая западная точка Африки?

- 1) 14° с.ш.; 15° з.д.; 2) 14° ю.ш.; 17° з.д.;
- 3) 17° с.ш.; 26° з.д.; 4) 11° с.ш.; 3° в.д.

А-16. По карте плотности населения определите, какая из названных территорий заселена меньше?

- 1) Европа; 2) Южная Америка; 3) Австралия; 4) север Африки.

А-17. Родиной каких культур является Южная Америка?

- 1) какао и кофе 2) картофеля и бананов
- 3) томатов и картофеля 4) пшеницы и риса

А-18. Одним из основных современных видов хозяйственной деятельности человека в тайге является:

- | | |
|---------------------|-------------------------------|
| 1) заготовка леса | 2) добыча полезных ископаемых |
| 3) разведение скота | 4) выращивание зерна |

ЧАСТЬ В

Часть В содержит 4 задания. Задания В-1, В-2 содержат по три правильных ответа. Ответом к заданиям этой части (В-3, В-14) является слово, последовательность букв или цифр. Впишите ответы сначала в текст работы, а затем перенесите их в бланк ответов № 1 справа от номера соответствующего задания, начиная с первой клеточки, без пробелов, запятых и других дополнительных символов. Каждую цифру или букву пишите в отдельной клеточке в соответствии с приведёнными в бланке образцами. Единицы измерения писать не нужно.

В-1. Определите, о какой природной зоне говорится:

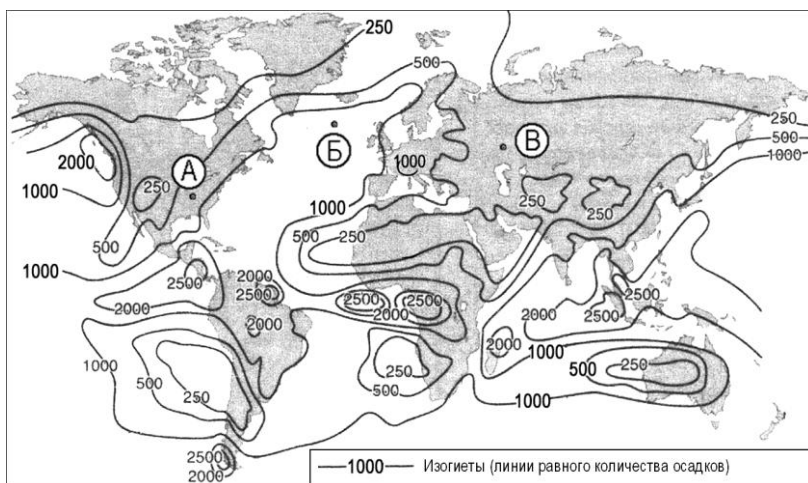
«...низкие температуры весь год, осадки – редки, преимущественно в виде снега, растительность карликовая, встречаются лемминги, песцы...».

В-2. Установите соответствие между строением земной коры и рельефом

ПЛАТФОРМА РАВНИНА

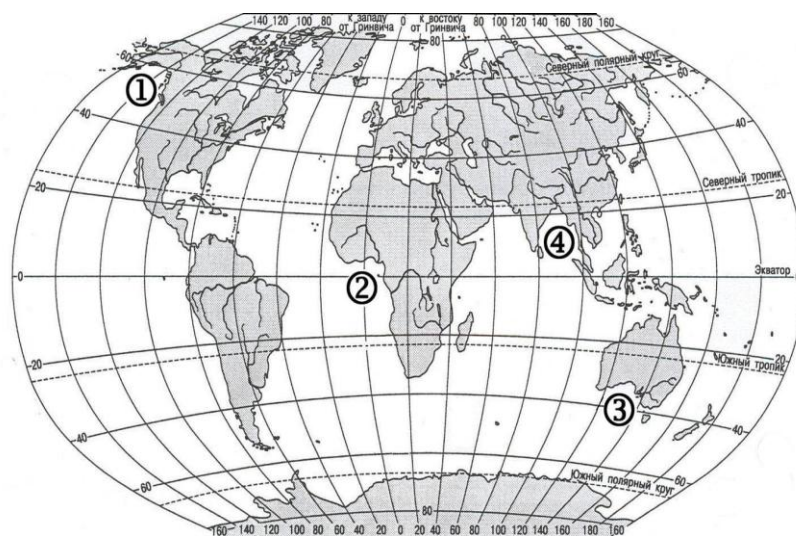
- | | |
|-----------------------|----------------------------|
| 1) Сибирская | А. Западно-Сибирская |
| 2) Индийская | Б. Великая Китайская |
| 3) Китайско-Корейская | В. Декан (плато) |
| | Г. Среднесибирское (Плато) |

В-3. С помощью карты сравните среднегодовое количество осадков в точках, обозначенных на карте буквами А, Б, В. Расположите эти точки в порядке уменьшения количества осадков, выпадающих в них.



Запишите в таблицу получившуюся последовательность букв.

В-4. Установите соответствие между заливом и его расположением на карте, обозначенным цифрой.



ЗАЛИВ

РАСПОЛОЖЕНИЕ НА КАРТЕ

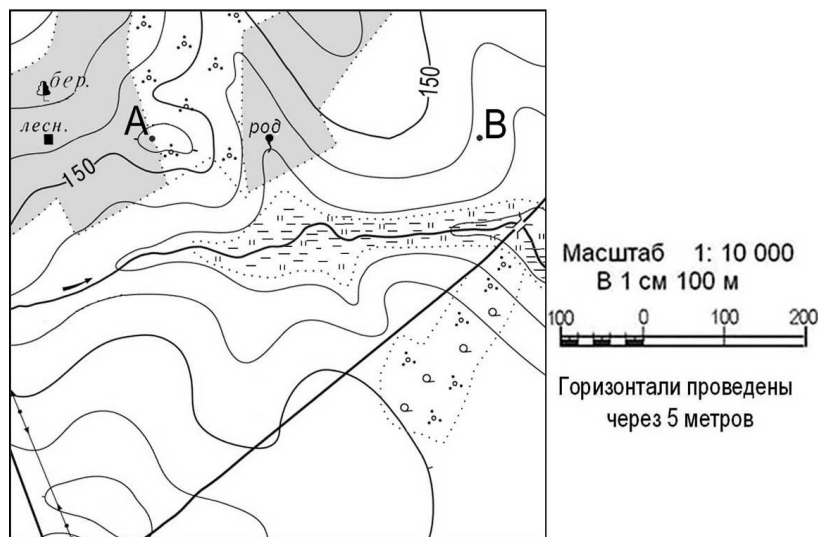
- А) Гвинейский Б) Бенгальский В) Большой Австралийский Г) Аляска

ЧАСТЬ С

Задания С требуют развернутого ответа. Запишите сначала номер задания, а затем полный ответ

С-1. Определите по карте расстояние на местности по прямой от родника до точки В. Полученный результат округлите до десятков метров. Ответ запишите цифрами.

Ответ: _____ м.



С-2. Определите страну по ее краткому описанию.

Жизнь значительной части населения этого самого северного государства в Зарубежной Европе связана с морем. Государство занимает первое место в мире по производству энергии на душу населения. Большое значение для хозяйства страны имеет открытие нефтегазовых месторождений в море. Страна занимает одно из ведущих мест в мире по производству алюминия, никеля, ферросплавов, кобальта.